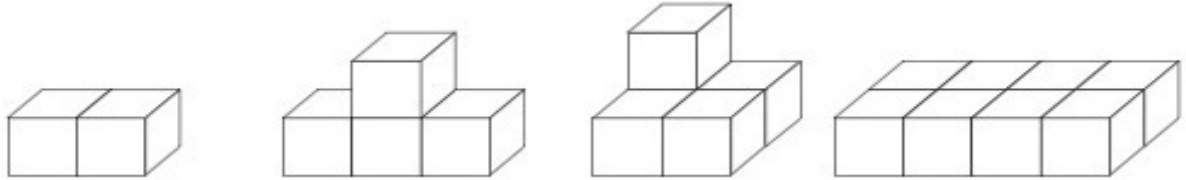


Défi express CARM37 - décembre 2011

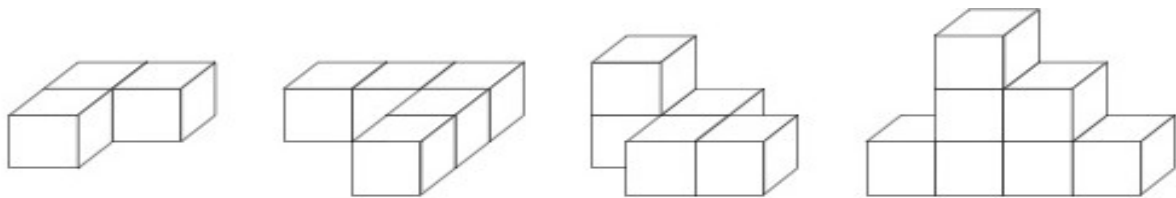
cycle 2

Défi n° 4 : le nombre de cubes.

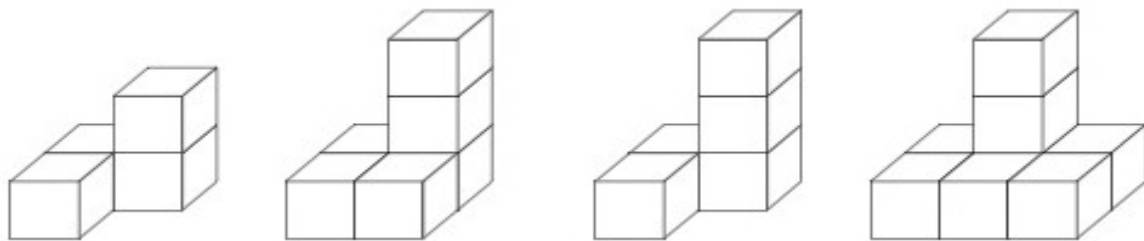
Enregistre ce fichier sur ton ordinateur et complète ensuite les cases vides dans lesquelles tu écriras le nombre de cubes qui a été utilisé pour réaliser chaque construction.



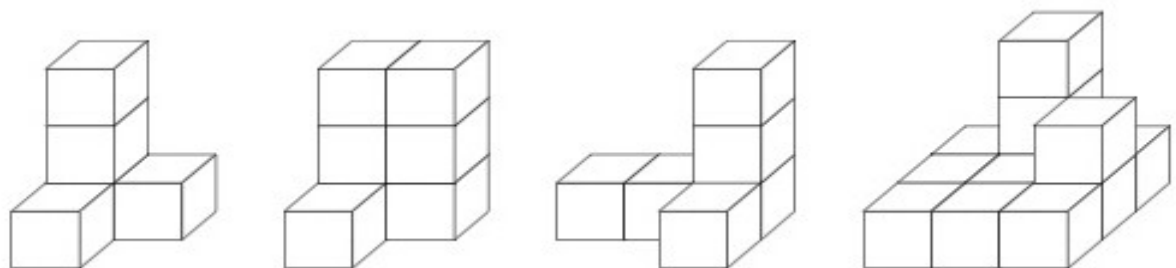
2	4	5	8
---	---	---	---



3	5	5	7
---	---	---	---



4	6	5	8
---	---	---	---



5	7	6	12
---	---	---	----

Envoie maintenant par mail en pièce jointe ce fichier à : defi.carm37@ac-orleans-tours.fr